


Tehtävä 4b

Kryssää oikeen kuvan!


A




B



C



D




E



F



G



FASIT TIL OPPGAVEN:

Mitä kello oon?

- 1) Kello oon kvartin vaile seittemen. = kuva B
- 2) Kello oon heti kymmenen. = kuva D
- 3) Kello oon kaksikymmentä minuttii yli yhðeksen. = kuva A
- 4) Kello oon kvartin yli kaksitoista. = kuva F
- 5) Kello oon yksitoista. = kuva E
- 6) Kello oon kvartin vaile nelje. = kuva C
- 7) Kello oon seittemen illala. = kuva G